

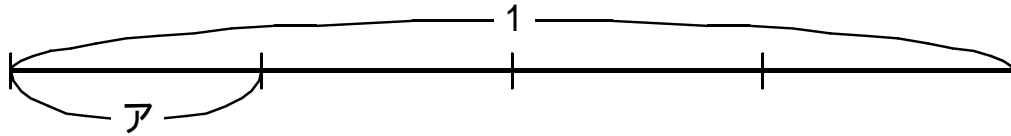
# 分数の大きさをいろいろな言い方で説明しよう

4年( )組( )

1

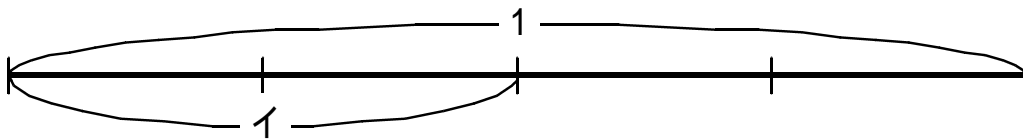
次の大きさを表す数をいみましょう。

ア



アは、1を同じ大きさに4つに分けた1つ分で  です。

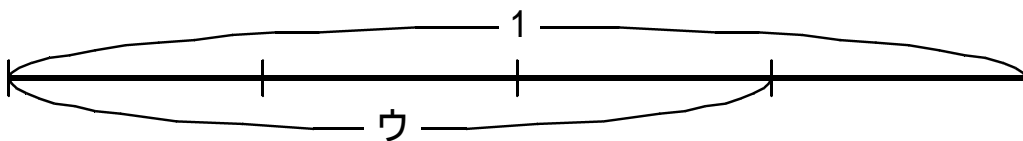
イ



イは、1を同じ大きさに4つに分けた( )つ分で  です。

$\frac{2}{4}$  は  を2こ集めた数です。

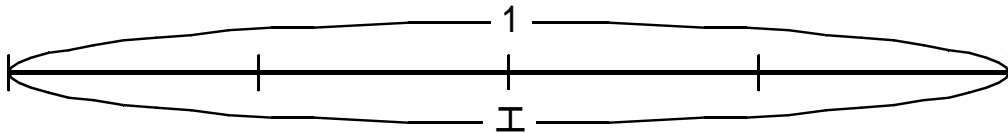
ウ



ウは、1を同じ大きさに4つに分けた( )つ分で  です。

は  を3こ集めた数です。

エ



エは、( )です。

$\frac{4}{4}$  は( )数です。  $\frac{4}{4}$  は( )のことです。

(わかったこと)



分数スペシャルプリントNo. 1

4年( )組( )

にあてはまる分数を答えましょう。

