

3年( )組( )番( )

やおやさんへ買い物に行きました。

みかんとりんごを買いました。

みかんは80円，りんごは100円でした。

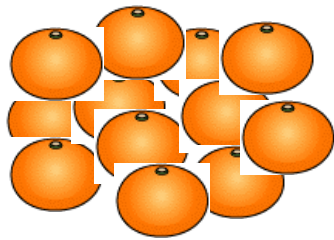
いちごもほしくなって買ったら，みんなで300円でした。

いちごは何円だったのでしょうか。


(1) わかっていることに，えんぴつで線をひきましょう。

(2) 求めたいことに青線をひきましょう。


(3) 大切なことばに赤線をひきましょう。



80円



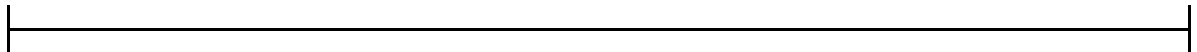
100円



?円

( )円

<線分図>



<式>

<答え>

<せつめい>