





正方形のきまりを見つけよう

3年()組()番()




かどがみんな直角で辺の長さがみんな同じ
四角形を()といいます



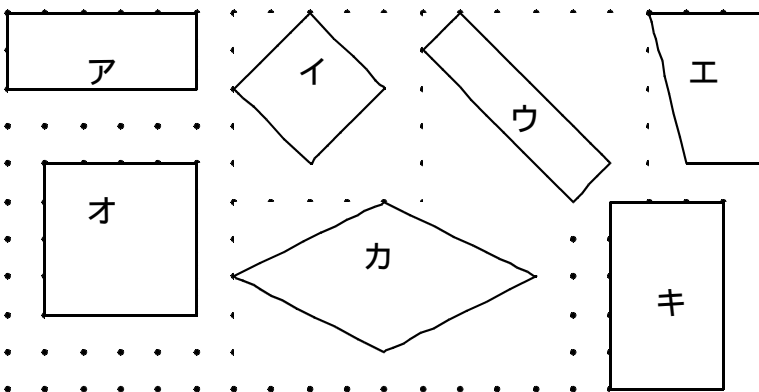
正方形を2つに切って、2つの長方形をつくりましょう。



正方形を2つに切って、2つの三角形をつくりましょう。



長方形や正方形を見つけ、わけもかきましょう。



長方形

わけ

正方形

わけ

身のまわりから、長方形や正方形を見つけましょう。

Blank box for writing examples of rectangles and squares found in the environment.